

Großlandschaften & Topographie (Übung)

(Achte auf eine gute **Lesbarkeit** deiner Schrift und auf **Sauberkeit** beim Beschriften.)

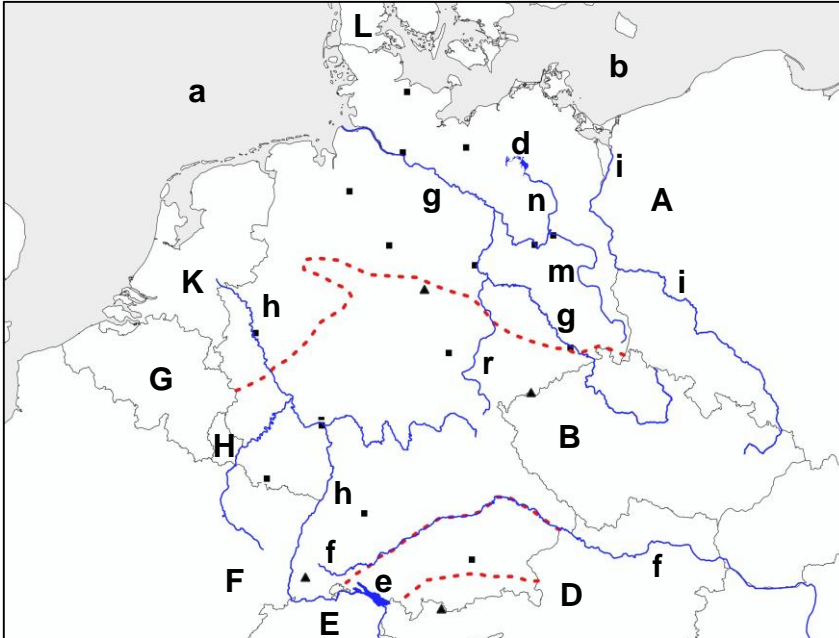
Form: /2

Name: _____ Klasse: _____ Datum: _____

Aufgabe 1

Zeichne die Grenzen Deutschlands nach. Beschrifte die Legende.

/8P



Legende



- Staatsgrenze
- - - - Großlandschaften

Nachbarstaaten

- A _____
- B _____
- D _____
- E _____
- F _____
- G _____
- H Luxemburg
- K Niederlande

Flüsse und Seen und Meere

- a _____
- b _____
- d Müritzsee
- e _____
- f _____
- g _____
- h _____
- i _____
- m _____
- n Havel
- r _____



Aufgabe 2

Kennzeichne die vier Großlandschaften in der Abbildung.

- NT = Norddeutsches Tiefland
- MR = Mittelgebirgsraum
- AV = Alpenvorland
- A = Alpen

/2P

Aufgabe 3

Beschreibe in Sätzen, wo Dresden innerhalb Deutschlands liegt. Beschrifte auch die Stadt Dresden in der Abbildung mit DD.

/3P

Aufgabe

Finde die versteckten Wörter.

N	H	A	M	B	U	R	G	Y	F	J	H	Y	K	T	S	C	H	E	C	H	I	E	N	B	R
H	U	X	S	H	M	S	B	K	D	I	M	S	E	U	B	J	S	L	V	A	N	A	X	U	S
T	Y	O	V	N	I	E	D	E	R	L	A	N	D	E	H	M	Q	E	L	E	S	A	T	R	Y
V	V	S	E	Y	C	J	X	V	W	E	N	V	I	B	N	R	T	I	E	F	L	A	N	D	Z
B	W	T	B	E	R	X	P	B	S	U	T	A	E	X	V	X	Z	I	W	K	I	S	J	K	P
O	F	Ö	L	E	Y	Q	N	O	R	D	D	E	U	T	S	C	H	E	S	N	S	I	C	M	W
D	F	S	V	J	H	O	H	L	U	S	X	B	J	V	L	V	C	T	K	R	H	R	P	H	L
E	R	T	U	J	K	F	O	P	O	D	I	U	Ö	S	T	E	R	R	E	I	C	H	I	M	O
N	N	E	X	R	H	E	I	N	W	D	F	B	Y	U	N	T	P	M	T	M	F	R	C	T	S
S	Y	R	F	V	F	J	K	C	N	L	A	W	Y	G	H	W	D	P	B	Q	E	E	D	Q	T
E	B	R	N	N	G	Q	S	D	U	J	H	V	M	F	F	O	N	J	B	N	D	F	Q	S	
E	D	E	T	O	C	A	R	D	U	X	B	N	W	F	R	S	N	U	Y	N	U	T	I	J	E
B	O	I	C	R	J	L	S	R	E	E	K	U	U	S	A	S	A	W	B	A	P	K	C	J	E
B	F	C	N	D	K	P	W	E	R	M	A	U	B	B	N	V	U	P	R	K	O	B	H	E	U
J	C	H	D	S	C	E	J	S	D	B	S	R	E	K	K	J	N	S	O	O	L	Z	T	I	P
A	V	V	R	E	Q	N	I	D	V	U	B	S	L	F	R	S	D	M	C	F	E	K	E	B	Q
L	W	D	Z	E	D	V	B	E	H	R	O	L	G	A	E	Y	K	V	K	S	N	Q	L	X	C
P	B	Ä	L	Y	V	O	B	N	N	G	W	S	I	E	I	H	O	H	E	C	Q	R	B	W	I
E	G	N	X	B	Q	R	N	K	F	Y	G	Y	E	K	C	W	O	V	N	U	W	J	E	X	S
N	F	E	Z	S	P	L	W	O	D	E	R	M	N	O	H	Q	N	L	C	G	L	X	R	H	C
X	N	M	X	P	X	A	Q	X	A	H	H	F	M	J	F	H	G	F	M	V	B	J	G	M	H
R	X	A	F	R	M	N	T	E	N	A	T	E	Z	U	G	S	P	I	T	Z	E	G	W	Y	W
N	D	R	O	E	E	D	X	T	V	G	W	P	C	O	M	E	U	I	T	N	F	F	W	K	E
T	P	K	G	E	J	D	W	E	L	B	E	E	M	U	L	D	E	I	L	T	I	L	K	L	I
S	E	O	N	V	H	V	Q	H	C	S	N	F	P	B	I	X	Y	I	H	A	V	E	L	E	Z
M	M	I	T	T	E	L	G	E	B	I	R	G	S	R	A	U	M	W	S	C	N	R	V	F	G

NORDDEUTSCHES, TIEFLAND,
MITTELGEBIRGSRAUM,
ALPENVORLAND, ALPEN, ELBE, ODER,
SPREE, HAMBURG, DONAU, RHEIN,
HADEL, BODENSEE, NORDSEE,
OSTSEE, POLEN, FRANKREICH,
DRESDEN, MULDE, ZUGSPITZE,
FICHELBERG, BROCKEN, DÄNEMARK,
TSCHECHIEN, ÖSTERREICH,
SCHWEIZ, LUXEMBURG, BELGIEN,
NIEDERLANDE, ÖSTERREICH

Aufgabe

Zeichne den Umriss (die Grenze) von Deutschland.